

Место для шифра

6007

ШКОЛЬНЫЙ ЭТАП ВСЕРОССИЙСКОЙ ОЛИМПИАДЫ  
ШКОЛЬНИКОВ 2019/2020 УЧЕБНОГО ГОДА

по

История

(предмет)

ученика (-цы) ка 6 класса МОУ СОШ № 10

Идриева Дамшам Давидовича

фамилия, имя, отчество (полностью, в родительном падеже)

Боровикова Елена Евсеевна

ФИО учителя - наставника

## Всероссийская олимпиада школьников по географии 2019-2020 уч.г.

## Школьный этап

6 класс

Время на выполнение заданий: 45 минут

Тестовый раунд

1. Как сейчас называются географические объекты, обозначенные на древней карте?

Древнее название	Современное название
1. Эфиопский океан	Индийский океан -
2. Эритрейское море	Каледонское море -
3. Остров Альбион	Великобритания ✓ 1
4. Понт Эвксинский	
5. Внутреннее море	Черное море -

2. Какой инструмент использовал Эратосфен для определения размеров земного шара?

- а) линейку      б) компас      в) телескоп      г) метроном

3. Високосный год наступает каждые:

- а) 2 года      б) 4 года      в) 6 лет      г) 8 лет

4. Зеленым цветом на физической карте изображаются:

- а) леса      б) растительность      в) луга      г) низменные равнины

1	2	3	4
6	6	2	01

5. + 1 (6)

5. Аналитический раунд

Задание 1. Что обозначают данные слова? Своё пояснение впишите в таблицу.

Ответ:

1. Росса		
2. Крузенштерн	человек, который совершил круг зем.	2
3. Тунец	рыба	2
4. Кусто	изобретатель подводной лодки	2
5. Фукус		
6. Малакка		
7. Минтай	рыба	2
8. Ява	остров	2
9. Лангуст	животное	
10. Гольфстрим	течение	2

Задание 2. Найдите лишнее слово в каждой группе. Объясните свой выбор.

а) город, селение, остров, поселок, аул, кишлак, станица

б) Франция, Австрия, Швеция, Бельгия, Боливия, Норвегия, Швейцария

в) Аппалачи, Алтай, Кордильеры, Альпы, Атакама, Анды

Ответ:

а. остров остальные не острова б. Швейцария не в Европе в. Атакама не горы

**Задание 3.** Еще в древности жители горных районов Таджикистана знали, как ускорить таяние снега и льда в горах. В чем заключался этот способ?

Ответ: посыпать снег и лед солью. Отражение от реки 0

**Задание 4.** О каких минералах говорят: «Воды боится, а из воды родится»? Свой ответ обоснуйте.

Ответ: соль 20

Место для шифра

6008

ШКОЛЬНЫЙ ЭТАП ВСЕРОССИЙСКОЙ ОЛИМПИАДЫ  
ШКОЛЬНИКОВ 2019/2020 УЧЕБНОГО ГОДА

по географии  
(предмет)

Ученики (-цы) 6 класса МОУ СОШ № 10

Нерадовской Анастасии Михайловны  
Фамилия, имя, отчество (полностью, в родительном падеже)

Доровенкова Елена Евгеньевна  
ФИО учителя - наставника

Всероссийская олимпиада школьников по географии 2019-2020 уч.г.

Школьный этап

6 класс

Время на выполнение заданий: 45 минут

Тестовый раунд

1. Как сейчас называются географические объекты, обозначенные на древней карте?

Древнее название	Современное название
1. Эфиопский океан	Индийский океан
2. Эритрейское море	Финтийское море
3. Остров Альбион	Большая Британия
4. Понт Эвксинский	Черное море
5. Внутреннее море	Миссисипи

2. Какой инструмент использовал Эратосфен для определения размеров земного шара?

- а) линейку      б) компас      в) телескоп      г) метроном

3. Високосный год наступает каждые:

- а) 2 года      б) 4 года      в) 6 лет      г) 8 лет

4. Зеленым цветом на физической карте изображаются:

- а) леса      б) растительность      в) луга      г) низменные равнины

1	2	3	4
			2

115

5. Аналитический раунд

Задание 1. Что обозначают данные слова? Своё пояснение впишите в таблицу.

Ответ:

1. Росса	море	2
2. Крузенштерн	человек который совершил путешествие вокруг света	2
3. Тунец	рыба	2
4. Кусто	исследователь морей	2
5. Фукус	цветок, растение	-
6. Малакка	вулкан	-
7. Минтай	рыба	2
8. Ява	остров	2
9. Лангуст	животное	-
10. Гольфстрим	вид течения (теплое) / течение	2

Задание 2. Найдите лишнее слово в каждой группе. Объясните свой выбор.

а) город, селение, ~~остров~~, поселок, аул, кишлак, станица

б) Франция, Австрия, Швеция, Бельгия, ~~Боливия~~, Норвегия, Швейцария

в) Аппалачи, ~~Алтай~~, Кордильеры, Альпы, Атакама, Анды

Ответ:

а - потому что поселение; б - страна Ю. Америки; в) - потому что все горы или

20

**Задание 3.** Еще в древности жители горных районов Таджикистана знали, как ускорить таяние снега и льда в горах. В чем заключался этот способ?

Ответ: направившим зеркалом на снег

0

**Задание 4.** О каких минералах говорят: «Воды боится, а из воды родится»? Свой ответ обоснуйте.

Ответ: Это соль. Потому что она зарождалась в воде, а из-за соль может растиать

20

Место для пинфра

10002

ШКОЛЬНЫЙ ЭТАП ВСЕРОССИЙСКОЙ ОЛИМПИАДЫ  
ШКОЛЬНИКОВ 2019/2020 УЧЕБНОГО ГОДА  
по географии  
(предмет)

класс 10 класса МОУ (ИП) № 10

Есмей Виктории Вячеславовны

(Фамилия, имя, отчество полностью, в родительном падеже)

Боровикова Елена Евгеньевна

(ФИО учителя - школьника)

Всероссийская олимпиада школьников по географии 2019-2020 уч.г.

Школьный этап

10-11 классы

Время на выполнение заданий: 60 минут

Тестовый раунд

1. Кто в 1932г. впервые прошел Северным морским путем без зимовки?

а) О.Шмидт, В.Воронин

в) Н.Пржевальский

б) Г.Седов

г) В.Беринг

2. Определите тип климата по его описанию.

В течение года господствуют континентальные воздушные массы. Зима суровая, с температурами  $-30^{\circ}\text{C}$  и ниже, малоснежная. Лето теплое, с средней температурой  $+16^{\circ}\text{C}$ . *Резко - континентальный*

3. Укажите пару с правильным соответствием «народ России – ведущая религия».

а) калмыки – буддисты

в) кабардинцы - православие

б) карелы – католики

г) удмурты - мусульмане

4. Назовите тип сельских поселений, которые распространены на юге Европейской части России, в бассейне реки Кубань. Характерные черты – большая численность населения и вытянутая форма (часто – одна улица) *Село -* 15

1	2	3	4

5. Аналитический раунд

Задание 1. Разбейте перечисленные страны на группы по преобладающей религии.

~~Алжир, Белорусия, Греция, Индонезия, Ирландия, Таиланд, Литва, Мавритания,~~  
~~Норвегия, Пакистан, Монголия, Испания, Аргентина, Финляндия.~~

Ответ:

*Австралия, Индия*  
 Православие: *Белорусия, Греция; Ислам - Алжир; Индуизм -*  
*Индонезия, Мавритания, Пакистан; Буддизм - Таиланд, Монголия;*  
*Католицизм - Ирландия, Литва, Испания.*  
 Монархизм - *Кувейт; -?*

Задание 2. Странами – лидерами по выращиванию этой сельскохозяйственной культуры являются Китай, Индия, Индонезия, Бангладеш и Вьетнам. Определите, что это за культура. Какие природные и социальные особенности характерны для районов её произрастания.



Ответ:

Лесок.

### Задание 3.

По предложенной топографической карте начертите по прямой профиль участка между точками А и В. На основании профиля сделайте вывод о том, можно ли увидеть точку В из точки А?

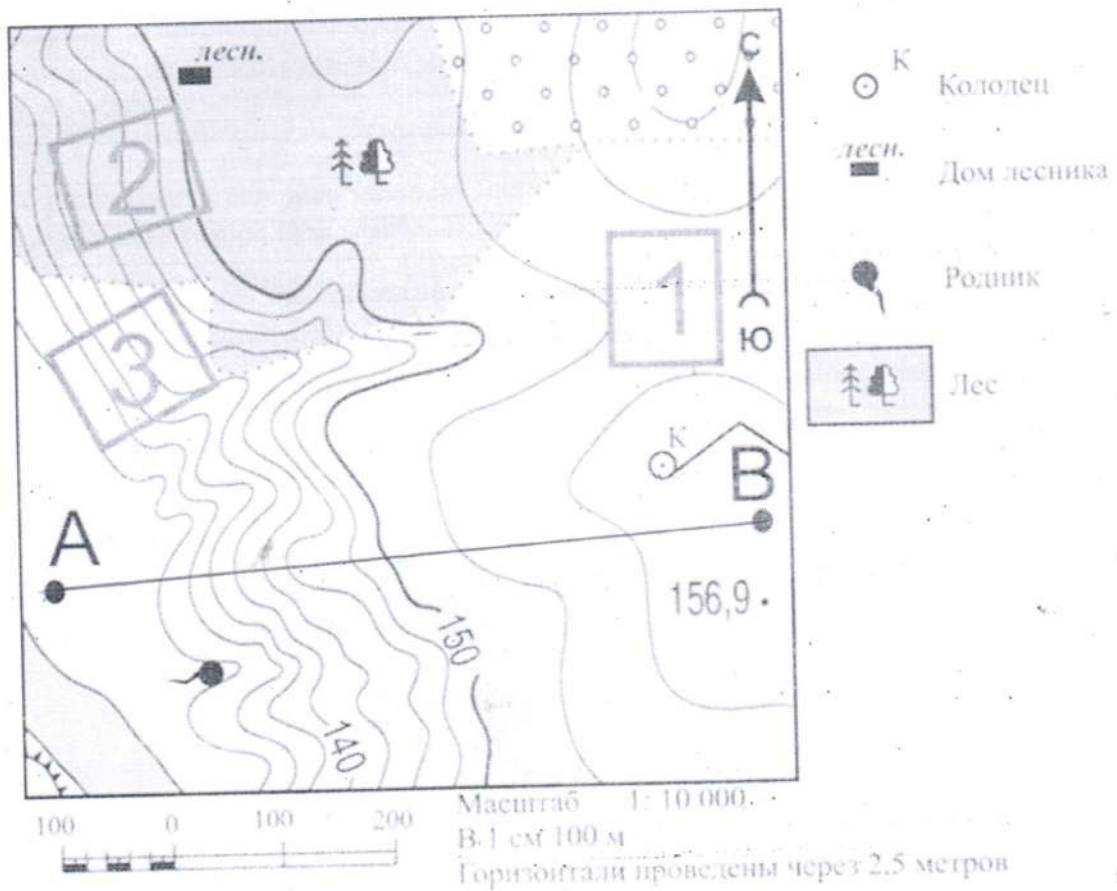



Схема профиля:



Ответ: Из точки А точку В мы не увидим, т.к. В находится выше А.

**Задание 4.** Согласны ли вы с утверждениями? Свой ответ обоснуйте.

1. В Иране большинство населения говорит на языках индоевропейской семьи и исповедует ислам.
2. Мехико – столица «ключевой» развивающейся страны.
3. Пакистан – страна трудовой эмиграции.
4. Город Маскат – столица страны, исповедующей буддизм.
5. Афганистан - бывшая английская колония.

0

Место для шифра

10007

ШКОЛЬНЫЙ ЭТАП ВСЕРОССИЙСКОЙ ОЛИМПИАДЫ  
ШКОЛЬНИКОВ 2019/2020 УЧЕБНОГО ГОДА

по географии

(предмет)

учитель-предметник 10 класса МБОУ СОШ № 10

Русских Виталия Сергеевича

(Фамилия, имя, отчество полностью, в родительном падеже)

Боровикова Елена Евгеньевна

ФИО учителя - наставника

Всероссийская олимпиада школьников по географии 2019-2020 уч.г.  
Школьный этап  
10-11 классы

Время на выполнение заданий: 60 минут

Тестовый раунд

1. Кто в 1932г. впервые прошел Северным морским путем без зимовки?  
 а) О.Шмидт, В.Воронин в) Н.Пржевальский  
 б) Г.Седов г) В.Беринг
2. Определите тип климата по его описанию.  
 В течение года господствуют континентальные воздушные массы. Зима суровая, с температурами -30°С и ниже, малоснежная. Лето теплое, с средней температурой +16°С. *резко - континентальный*
3. Укажите пару с правильным соответствием «народ России – ведущая религия».  
 а) калмыки – буддисты в) кабардинцы - православие  
 б) карелы – католики г) удмурты - мусульмане
4. Назовите тип сельских поселений, которые распространены на юге Европейской части России, в бассейне реки Кубань. Характерные черты – большая численность населения и вытянутая форма (часто – одна улица)  
*село -*

1	2	3	4

15

5. Аналитический раунд

Задание 1. Разбейте перечисленные страны на группы по преобладающей религии.

Алжир, Белоруссия, Греция, Индонезия, Ирландия, Таиланд, Литва, Мавритания, Норвегия, Пакистан, Монголия, Испания, Аргентина, Финляндия.

Ответ:

*Христианства: Белоруссия, Греция, Аргентина, Финляндия*  
*Ислам: Алжир*  
*Иудаизм: Израиль*  
*Буддизм: Монголия, Таиланд*  
*Католицизм: Ирландия, Литва, Испания*  
*Мухомеданство: Норвегия -?*

Задание 2. Странами – лидерами по выращиванию этой сельскохозяйственной культуры являются Китай, Индия, Индонезия, Бангладеш и Вьетнам. Определите, что это за культура. Какие природные и социальные особенности характерны для районов её произрастания.

20

Ответ:

*Хиснок*

### Задание 3.

По предложенной топографической карте начертите по прямой профиль участка между точками А и В. На основании профиля сделайте вывод о том, можно ли увидеть точку В из точки А?

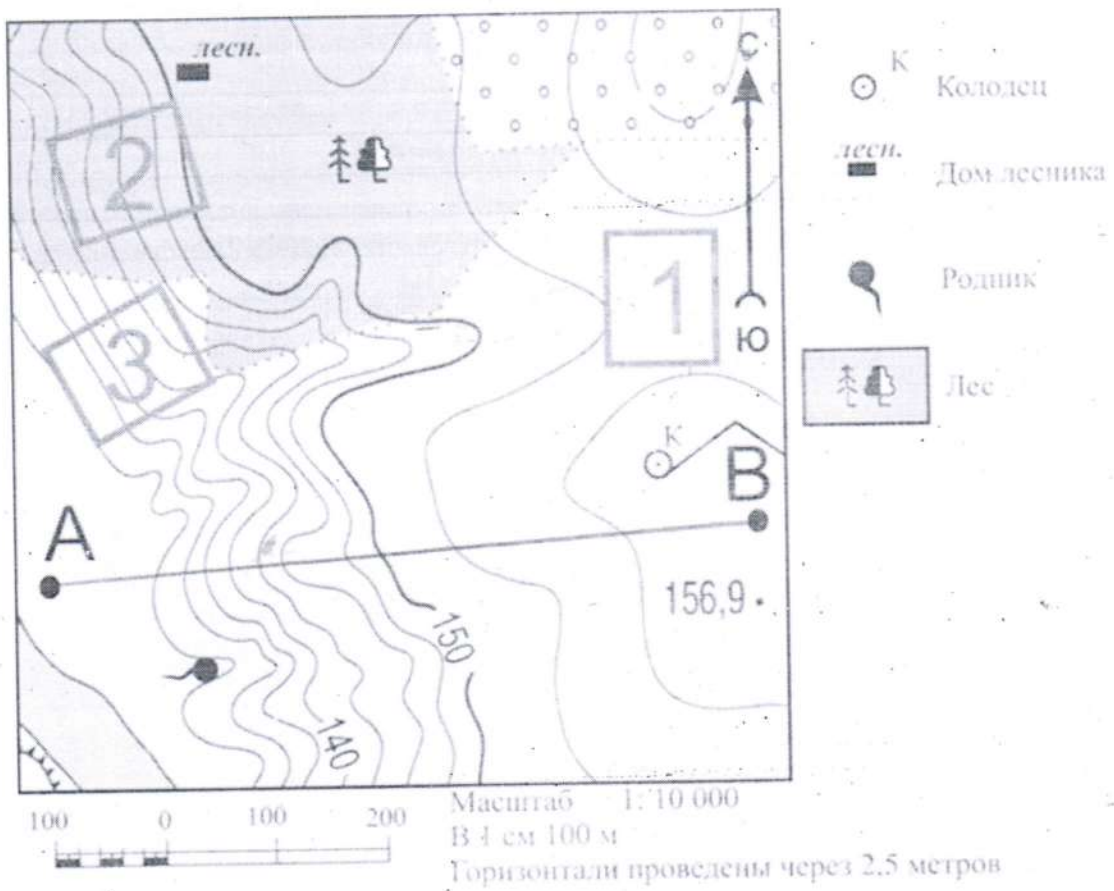



Схема профиля:



Ответ: *Нет, нельзя*

**Задание 4.** Согласны ли вы с утверждениями? Свой ответ обоснуйте.

1. В Иране большинство населения говорит на языках индоевропейской семьи и исповедует ислам.
  2. Мехико – столица «ключевой» развивающейся страны.
  3. Пакистан – страна трудовой эмиграции.
  4. Город Маскат – столица страны, исповедующей буддизм.
  5. Афганистан - бывшая английская колония.
- 0

Место для шифра

6001

ШКОЛЬНЫЙ ЭТАП ВСЕРОССИЙСКОЙ ОЛИМПИАДЫ  
ШКОЛЬНИКОВ 2019/2020 УЧЕБНОГО ГОДА

по географии  
(предмет)

Ученика (-цы) каб класса МОУ СОШ № 110

Артамонова Виктора Сергеевича  
Фамилия, имя, отчество (полностью, в родительном падеже)

\_\_\_\_\_  
ФИО учителя - наставника

Всероссийская олимпиада школьников по географии 2019-2020 уч.г.  
Школьный этап  
6 класс

Время на выполнение заданий: 45 минут

Тестовый раунд

1. Как сейчас называются географические объекты, обозначенные на древней карте?

Древнее название	Современное название
1. Эфиопский океан	Тихий океан
2. Эритрейское море	Каспийское море
3. Остров Альбион	Великобритания ✓
4. Понт Эвксинский	
5. Внутреннее море	Черное море

2. Какой инструмент использовал Эратосфен для определения размеров земного шара?

- а) линейку      б) компас      в) телескоп      г)  метроном

3. Високосный год наступает каждые:

- а) 2 года      б)  4 года      в) 6 лет      г) 8 лет

4. Зеленым цветом на физической карте изображаются:

- а) леса      б)  растительность      в) луга      г)  низменные равнины

1	2	3	4
	2	0	0

105

5. Аналитический раунд

Задание 1. Что обозначают данные слова? Своё пояснение впишите в таблицу.

Ответ:

1. Росса	Каньон дождевое море	d
2. Крузенштерн	человек совершивший круг. п. юж. полюса	d
3. Тунец	рыба	d
4. Кусто	исследователь морей	d
5. Фукус	цветок	
6. Малакка	суецкий канал	-
7. Минтай	рыба	d
8. Ява	остров	d
9. Лангуст	животное, моллюск	-
10. Гольфстрим	течение	d

145

Задание 2. Найдите лишнее слово в каждой группе. Объясните свой выбор.

- а) город, селение, остров, поселок, аул, кишлак, станция
- б) Франция, Австрия, Швеция, Бельгия, Боливия, Норвегия, Швейцария
- в) Аппалачи, Алтай, Кордильеры, Альпы, Атакама, Анды

Ответ:

остров - море, Боливия, станция Юж. П.

205



**Задание 3.** Еще в древности жители горных районов Таджикистана знали, как ускорить таяние снега и льда в горах. В чем заключался этот способ?

Ответ: отражение

10

**Задание 4.** О каких минералах говорят: «Воды боится, а из воды родится»? Свой ответ обоснуйте.

Ответ: соль

20