

Место для шифра

06.01.10

**ШКОЛЬНЫЙ ЭТАП ВСЕРОССИЙСКОЙ ОЛИМПИАДЫ  
ШКОЛЬНИКОВ 2023/2024 УЧЕБНОГО ГОДА**

по Географии  
(предмет)

Ученика(-цы) ка. 6 класса МОУ СОШ №10

Аксимова Юлия Александровича  
фамилия, имя, отчество (в родительном падеже)

Боровикова Елена Евгеньевна  
Ф.И.О. учителя-наставника

ДЛЯ УЧАСТНИКОВ**ВСЕРОССИЙСКАЯ ОЛИМПИАДА ШКОЛЬНИКОВ 2023-2024 УЧ. Г.  
ШКОЛЬНЫЙ ЭТАП**

География

5-6 класс

Задания**I раунд (тестовый)****Задание 1.****1. Основателем науки географии является:**

1. Эратосфен            3. К. Птолемей  
2. Аристотель        4. А. Самосский

**2. Выберите одну верную пару.**

1. Гималаи - Мак - Кинли  
2. Альпы - Белуха  
3. Кавказ - Эльбрус **15**  
4. Анды - Эверест

**3. Масштаб 1:100000 крупнее, чем масштаб:**

- A. 1:1000      Б. 1:10000      В. 1:1000000 **15**

**4. Модель, уменьшенная копия Земли, - это**

1. глобус **15**  
2. аэрофотоснимок  
3. план местности  
4. карта местности

**5. Где на Земле можно построить дом, у которого все четыре стороны будут обращены на юг?**

1. на Южном полюсе **—**  
2. на экваторе  
3. на Северном полюсе  
4. на полярном круге

**6. Определите, о ком из путешественников (географов) идёт речь?**

1. Мореплаватель, который задумал, но не смог до конца совершить первое кругосветное путешествие. Это путешествие доказало наличие единого Мирового океана и шарообразности Земли.

2. Российский мореплаватель, адмирал, почетный член Петербургской АН, член-учредитель Русского географического общества, начальник первой русской кругосветной экспедиции на кораблях «Надежда» и «Нева», автор «Атласа Южного моря».
3. Итальянский путешественник, исследователь Китая, Индии. Первым наиболее подробно описал Азию.
4. Российский мореплаватель, первооткрыватель Антарктиды. Командовал шлюпом «Восток».
5. Английский мореплаватель. Возглавлял три кругосветных экспедиции, открыл множество островов в Тихом океане, выяснил островное положение Новой Зеландии, открыл Большой Барьерный Риф, восточное побережье Австралии, Гавайские острова. *Кристиан Роберт Коллингвуд*

### 7. Главная причина образования течений

1. ветер
2. движение Луны
3. атмосферное давление

### 8. Восстановите из перечисленных слов правильную последовательность событий: (ответ запишите цифрами через запятую)

1. выпадение осадков *4 15*
2. испарение *2 15*
3. солнечные лучи *5*
4. прогревание земной поверхности *1*
5. образование облаков *3 15*

### 9. Кто занимается поиском полезных ископаемых?

1. географы
2. археологи
3. геологи
4. биологи

### 10. Самая дальняя от Солнца из планет земной группы:

1. Земля
2. Венера
3. Марс
4. Меркурий *15*

### 11. Как называется песчаный холм, возникающий под действием ветра на песчаных побережьях морей и озер, а также на речных террасах?

1. Скрэб
2. Курган
3. Вади
4. Дюна

### 12. К какому бассейну стока рек относится территория вашей школы?

1. Атлантического океана
2. Тихого океана
3. Северного Ледовитого океана
4. Внутреннего стока *15*

**13. Приведите соответствие элемент погоды – измерительный прибор:**

- |                       |              |    |
|-----------------------|--------------|----|
| 1. температура        | а) флюгер    | —  |
| 2. атм. давление      | б) осадкомер | 15 |
| 3. количество осадков | в) термометр | 15 |
| 4. направление ветра  | г) барометр  | —  |

**14. Осадочная порода органического происхождения - это**

- |           |              |    |
|-----------|--------------|----|
| 1. гранит | 3. известняк | 15 |
| 2. мрамор | 4. асбест    |    |

**15. Какие утверждения верны:**

1. На Земле 5 материков
2. Самый маленький материк – Антарктида.
3. Евразия – самый большой материк.
4. Нил – самая длинная река Евразии.
5. Миссисипи – самая длинная река планеты.
6. Африка – самый жаркий материк. 15
7. Самая высокая вершина планеты – Килиманджаро.
8. Самое глубокое озеро на Земле – Байкал.
9. Самый большой остров в мире – Гренландия.
10. Гора Джомолунгма (Эверест) – находится в Евразии.

85.

**КОЛИЧЕСТВО БАЛЛОВ – 30**

**II раунд (теоретический)**

**Задание 2.**

Группа туристов ушла из лагеря, когда Полярная звезда виднелась впереди. Путешественники заночевали и, проснувшись поутру, отправились обратно в лагерь. С какой стороны они должны видеть восходящее Солнце?

**КОЛИЧЕСТВО БАЛЛОВ: 20** с Востока. —

**Задание 3.**

Прочитайте слова. Выпишите из этого списка те, которые составляют группы. Каждую группу озаглавьте.




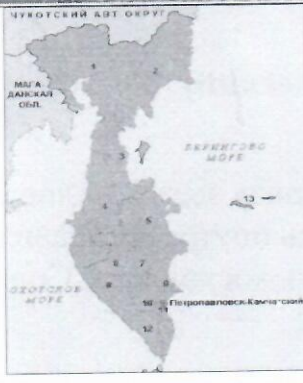

Чернозём, устье, смерч, остров, волк, краснозём, суховей, русло, снег, подзол, буран, излучина, исток, бриз, вулкан, коала, тайфун

**КОЛИЧЕСТВО БАЛЛОВ: 22** Чернозём, краснозём.

155

### Задание 4. «Знакомые очертания»

Сегодня наше традиционное задание из категории «Определи объект по его изображению» будет посвящена известным полуостровам. Вам предстоит указать название этих полуостровов и ответить на вопросы, касающихся каждого из них. Результат занесите в таблицу.

№	Изображение	Название объекта	Особенности объекта
1.			1. Название полуострова на востоке _____; 2. Название косы на северо-востоке _____.
2.			Две крупные страны, расположенные на этом полуострове: 1. _____; 2. _____.
3.			Две крупные страны, расположенные на этом полуострове: 1. _____; 2. _____.
4.			1. Название океана, в который впадает этот полуостров: _____; 2. Название региона России, который частично расположен на этом полуострове: <u>Тихий</u> .
5.			1. Название страны, в основном располагающейся в границах этого полуострова: _____.

105

Океан.

**13. Приведите соответствие элемент погоды – измерительный прибор:**

- |                       |              |    |
|-----------------------|--------------|----|
| 1. температура        | а) флюгер    | —  |
| 2. атм. давление      | б) осадкомер | 15 |
| 3. количество осадков | в) термометр | 15 |
| 4. направление ветра  | г) барометр  | —  |

**14. Осадочная порода органического происхождения - это**

- |           |              |    |
|-----------|--------------|----|
| 1. гранит | 3. известняк | 15 |
| 2. мрамор | 4. асбест    |    |

**15. Какие утверждения верны:**

1. На Земле 5 материков
2. Самый маленький материк – Антарктида.
3. Евразия – самый большой материк.
4. Нил – самая длинная река Евразии.
5. Миссисипи – самая длинная река планеты.
6. Африка – самый жаркий материк. 15
7. Самая высокая вершина планеты – Килиманджаро.
8. Самое глубокое озеро на Земле – Байкал.
9. Самый большой остров в мире – Гренландия.
10. Гора Джомолунгма (Эверест) – находится в Евразии.

85.

**КОЛИЧЕСТВО БАЛЛОВ – 30**

**II раунд (теоретический)**

**Задание 2.**

Группа туристов ушла из лагеря, когда Полярная звезда виднелась впереди. Путешественники заночевали и, проснувшись поутру, отправились обратно в лагерь. С какой стороны они должны видеть восходящее Солнце?

**КОЛИЧЕСТВО БАЛЛОВ: 20** с Востока. —





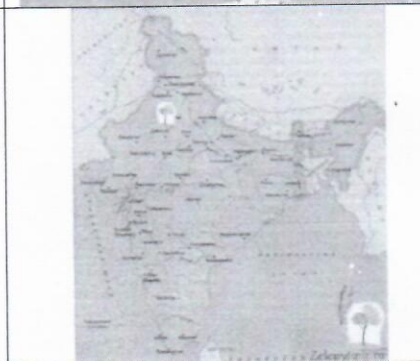
**Задание 3.**

Прочитайте слова. Выпишите из этого списка те, которые составляют группы. Каждую группу озаглавьте.

Чернозём, устье, смерч, остров, волк, краснозём, суховей, русло, снег, подзол, буран, излучина, исток, бриз, вулкан, коала, тайфун

**КОЛИЧЕСТВО БАЛЛОВ: 22** Чернозём, краснозём.

155

№	Изображение	Название объекта	Особенности объекта
6.		165	1. Самая крупная страна на полуострове: <u>Саудовская Аравия</u> . 2. Залив на северо-востоке полуострова: _____.
7.			1. К территории какой страны относится полуостров: _____.
8.			Назовите две страны, территории которых полностью расположены на этом полуострове: 1. _____; 2. _____.
9.			1. К какой стране относится этот полуостров: _____.
10.			1. Какая страна занимает практически полностью территорию этого полуострова: _____.

15 + 32 = 47 КОЛИЧЕСТВО БАЛЛОВ — 28

ОБЩЕЕ КОЛИЧЕСТВО БАЛЛОВ - 100 555